

2015年教育・経済学部第2問

1枚目 / 2枚

数理  
石井K

2 四面体 ABCD がある。線分 AB, BC, CD, DA 上にそれぞれ点 P, Q, R, S がある。点 P, Q, R, S は同一平面上にあり、四面体のどの頂点とも異なるとする。このとき下記の設問に答えよ。

(1) PQ と RS が平行であるとき、等式

$$\frac{AP}{PB} \cdot \frac{BQ}{QC} \cdot \frac{CR}{RD} \cdot \frac{DS}{SA} = 1$$

が成り立つことを示せ。

(2) PQ と RS が平行でないとき、等式

$$\frac{AP}{PB} \cdot \frac{BQ}{QC} \cdot \frac{CR}{RD} \cdot \frac{DS}{SA} = 1$$

が成り立つことを示せ。

(1)  $\vec{AB} = \vec{b}, \vec{AC} = \vec{c}, \vec{AD} = \vec{d}$

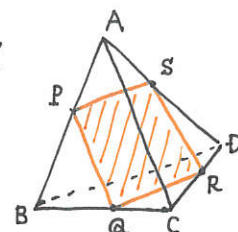
とおく。

$$AP : PB = s : (1-s),$$

$$BQ : QC = t : (1-t),$$

$$CR : RD = u : (1-u),$$

$$DS : SA = v : (1-v) \text{ とおく。}$$



( $s, t, u, v$  は  
 $0 < s, t, u, v < 1$  且  
みたす実数)

このとき、 $\vec{PQ} = \vec{AQ} - \vec{AP}$

$$= (1-t)\vec{b} + t\vec{c} - s\vec{b}$$

$$= (1-t-s)\vec{b} + t\vec{c}$$

$$\vec{RS} = \vec{AS} - \vec{AR}$$

$$= (1-v)\vec{d} - (1-u)\vec{c} - u\vec{d}$$

$$= -(1-u)\vec{c} + (1-v-u)\vec{d}$$

$PQ \parallel RS$  より、 $\vec{PQ} = k\vec{RS}$  ( $k \neq 0$ ) と表せる。

$$\therefore (1-t-s)\vec{b} + t\vec{c} = -k(1-u)\vec{c} + k(1-v-u)\vec{d}$$


$\vec{b}, \vec{c}, \vec{d}$  は一次独立より、

$$\begin{cases} 1-t-s=0 \\ t = -k(1-u) \\ 0 = k(1-v-u) \end{cases}$$

$$\therefore t = 1-s, v = 1-u \text{ (}\because k \neq 0 \text{ より)}$$

$$\begin{aligned} \therefore \frac{AP}{PB} \cdot \frac{BQ}{QC} \cdot \frac{CR}{RD} \cdot \frac{DS}{SA} &= \frac{s}{1-s} \cdot \frac{t}{1-t} \cdot \frac{u}{1-u} \cdot \frac{v}{1-v} \\ &= \frac{s}{1-s} \cdot \frac{1-s}{s} \cdot \frac{u}{1-u} \cdot \frac{1-u}{u} \\ &= 1 \quad \square \end{aligned}$$

2枚目につづく



2015年教育・経済学部第2問

2枚目 / 2枚

数理  
石井K

2 四面体 ABCD がある。線分 AB, BC, CD, DA 上にそれぞれ点 P, Q, R, S がある。点 P, Q, R, S は同一平面上にあり、四面体のどの頂点とも異なるとする。このとき下記の設問に答えよ。

(1) PQ と RS が平行であるとき、等式

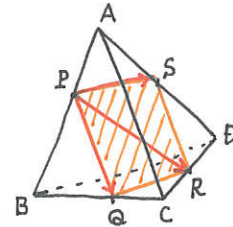
$$\frac{AP}{PB} \cdot \frac{BQ}{QC} \cdot \frac{CR}{RD} \cdot \frac{DS}{SA} = 1$$

が成り立つことを示せ。

(2) PQ と RS が平行でないとき、等式

$$\frac{AP}{PB} \cdot \frac{BQ}{QC} \cdot \frac{CR}{RD} \cdot \frac{DS}{SA} = 1$$

が成り立つことを示せ。



(2) PQ と RS が平行でないとき。

点 P, Q, R, S が同一平面上にあることから

$$\vec{PR} = m\vec{PQ} + n\vec{PS} \text{ と表せる。}(m, n \neq 0)$$

$$\text{ここで, } \vec{PR} = \vec{AR} - \vec{AP}$$

$$= (1-u)\vec{c} + u\vec{d} - s\vec{b}$$

$$\vec{PQ} = (1-t-s)\vec{b} + t\vec{c} \quad \leftarrow (1) \text{ で求めた}$$

$$\vec{PS} = \vec{AS} - \vec{AP}$$

$$= (1-v)\vec{d} - s\vec{b}$$

$$\text{よって, } -s\vec{b} + (1-u)\vec{c} + u\vec{d} = m(1-t-s)\vec{b} + mt\vec{c} + n(1-v)\vec{d} - ns\vec{b}$$

ここで,  $\vec{b}, \vec{c}, \vec{d}$  は一次独立より,

$$\begin{cases} -s = m(1-t-s) - ns & \dots ① \\ 1-u = mt & \dots ② \\ u = n(1-v) & \dots ③ \end{cases}$$

$$① + ② + ③ \text{ より, } 1-s = m(1-s) + n(1-s) - nv$$

$$\therefore (1-s)(m+n-1) = nv \quad \dots ④$$

$$0 < s, t, u, v < 1, m, n \neq 0 \text{ より, } ① \text{ から, } \frac{s}{1-t} = \frac{m}{m+n-1}, \quad ② \text{ から } \frac{t}{1-u} = \frac{1}{m}$$

$$③ \text{ から } \frac{u}{1-v} = n \quad ④ \text{ から } \frac{v}{1-s} = \frac{m+n-1}{n}$$

$$\begin{aligned} \therefore \frac{AP}{PB} \cdot \frac{BQ}{QC} \cdot \frac{CR}{RD} \cdot \frac{DS}{SA} &= \frac{s}{1-s} \cdot \frac{t}{1-t} \cdot \frac{u}{1-u} \cdot \frac{v}{1-v} \\ &= \frac{v}{1-s} \cdot \frac{s}{1-t} \cdot \frac{t}{1-u} \cdot \frac{u}{1-v} \end{aligned}$$

$$\begin{aligned} &= \frac{m+n-1}{n} \cdot \frac{m}{m+n-1} \cdot \frac{1}{m} \cdot n \\ &= 1 \quad \square \end{aligned}$$