



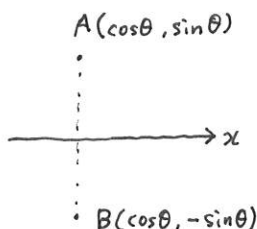
2013年第2問

2 座標平面上に点 $A(\cos\theta, \sin\theta)$ ($0 < \theta < \pi$) がある。原点を O とし、 x 軸に関して点 A と対称な点を B とする。次の問いに答えよ。

(1) $-1 < \vec{OA} \cdot \vec{OB} \leq \frac{1}{2}$ となる θ の範囲を求めよ。

(2) 点 P を

$$\vec{OP} = 2\vec{OA} + \frac{1}{2}\vec{OB}$$



で定める。点 P から x 軸に下ろした垂線を PQ とする。 θ が (1) で求めた範囲を動くとき、 $\triangle POQ$ の面積の最大値を求めよ。

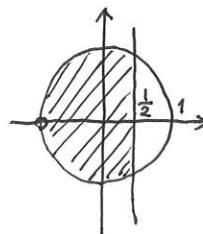
(1) $\vec{OA} = (\cos\theta, \sin\theta)$, $\vec{OB} = (\cos\theta, -\sin\theta)$ より

$$\vec{OA} \cdot \vec{OB} = \cos^2\theta - \sin^2\theta = \cos 2\theta$$

$$\therefore -1 < \cos 2\theta \leq \frac{1}{2} \quad (0 < 2\theta < 2\pi)$$

$$\therefore \frac{\pi}{3} \leq 2\theta \leq \frac{5\pi}{3} \quad \text{かつ } 2\theta \neq \pi$$

$$\therefore \frac{\pi}{6} \leq \theta < \frac{\pi}{2}, \quad \frac{\pi}{2} < \theta \leq \frac{5\pi}{6}$$



(2) $\vec{OP} = 2(\cos\theta, \sin\theta) + \frac{1}{2}(\cos\theta, -\sin\theta)$

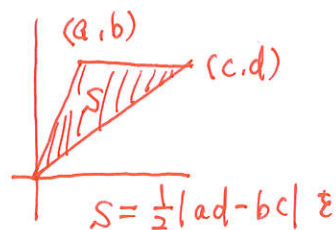
$$= \left(\frac{5}{2}\cos\theta, \frac{3}{2}\sin\theta\right) \quad \therefore Q\left(\frac{5}{2}\cos\theta, 0\right)$$

$\therefore \triangle POQ$ の面積を $S(\theta)$ とおくと、

$$S(\theta) = \frac{1}{2} \cdot \left|\frac{15}{4}\sin\theta\cos\theta\right|$$

$$= \frac{15}{16} |\sin 2\theta|$$

$0 < 2\theta < 2\pi$ より、 $S(\theta)$ の最大値は $\frac{15}{16}$ ($\theta = \frac{\pi}{4}, \frac{3\pi}{4}$)

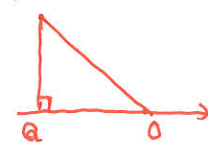


$$S = \frac{1}{2} |ad - bc| \text{ を}$$

使った。

今回は直角三角形なので、

P



$$S = \frac{1}{2} \cdot \frac{3}{2}\sin\theta \cdot \left|\frac{5}{2}\cos\theta\right|$$

としてもよいか

絶対値を忘れないこと。